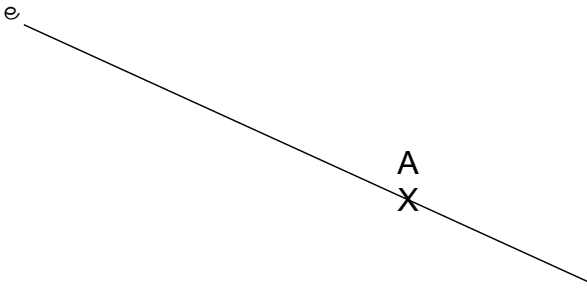


Nom :

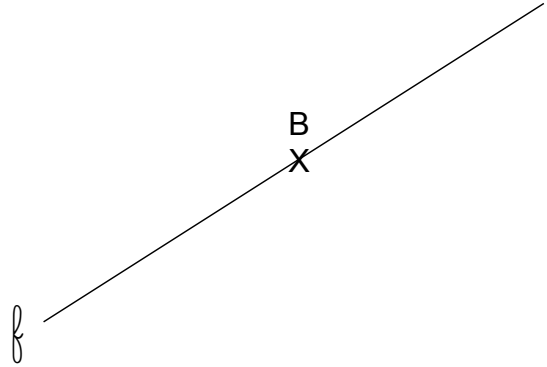
Date :

## Les droites perpendiculaires

1 Trace une droite perpendiculaire à la droite (e) passant par A.

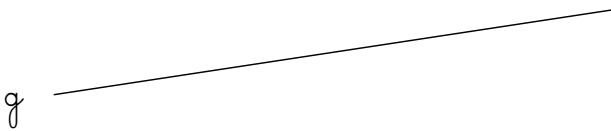


2 Trace une droite perpendiculaire à la droite (f) passant par B.

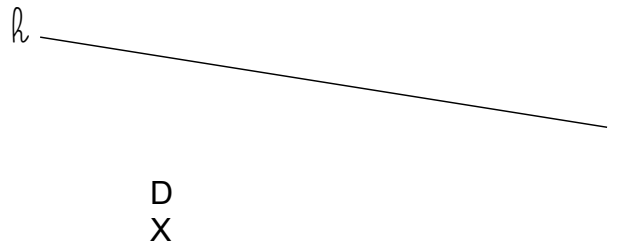


3 Trace une droite perpendiculaire à la droite (g) passant par C.

C  
X



4 Trace une droite perpendiculaire à la droite (h) passant par D.

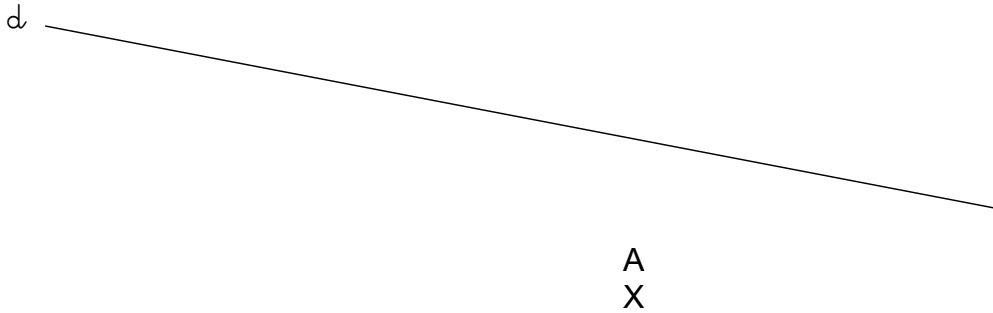


Nom :

Date :

## Les droites perpendiculaires

- 1 Trace une droite perpendiculaire à la droite (d) passant par A.



- 2 Trace une droite (d). Place un point A sur la droite (d).  
Trace la droite perpendiculaire à la droite (d) passant par A.

- 3 Trace une droite (l) . Place un point m sur la droite (l). Trace une droite perpendiculaire à la droite (l) passant par M.